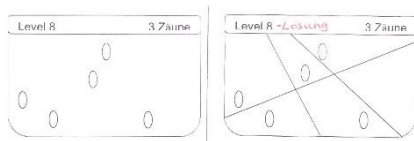


Tüfteln im April

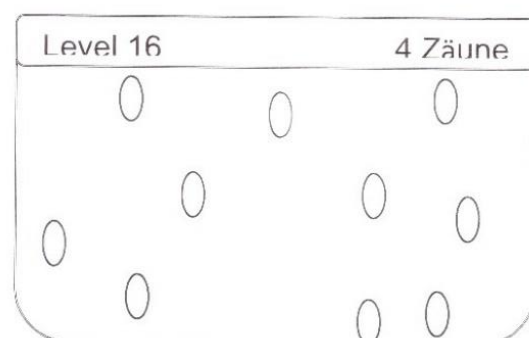
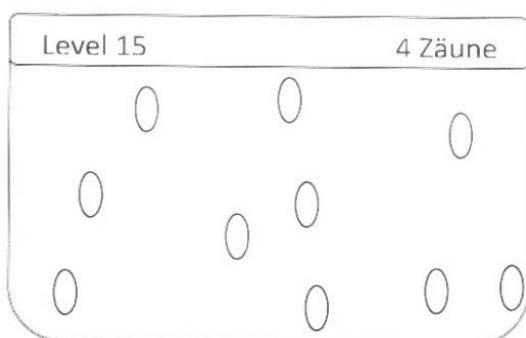
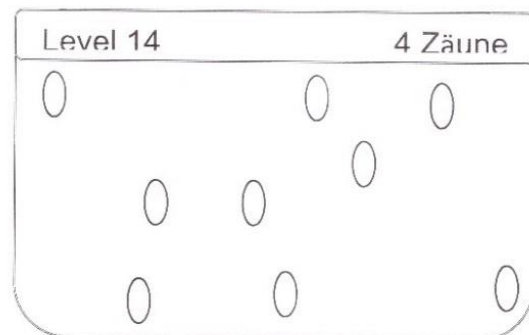
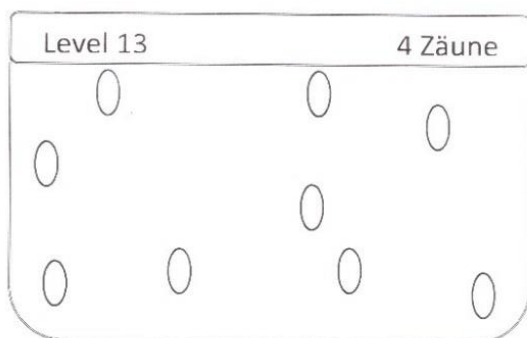


Der **Osterhase** hat auf einer Wiese Eier verteilt. Die Aufgabe ist es nun, Zäune (Linien) zu ziehen, so dass jedes **Ei** seinen eigenen Bereich auf der Wiese hat. Eine Wiese wird also durch **gerade Zäune**, die von einem Rand der Wiese zu einem anderen gehen, in mehrere Bereiche **zerlegt**. Die Anzahl der Zäune ist jeweils auf der Karte vorgegeben.

Beispiel:



Viel Spaß!



Lösung mit Namen und Klasse in Frau Heuers Fach oder als Email:

ursula.heuer-mckinney@rrg.hamburg.de